

1. निम्न में से बूँदी के शासन के विरुद्ध गुर्जरों का कौन सा आंदोलन था ?
 - (1) बेंगू का किसान आंदोलन
 - (2) शेखावाटी का किसान आंदोलन
 - (3) बिजौलिया का किसान आंदोलन
 - (4) डाबड़ा का किसान आंदोलन

2. मीरा द्वारा पूजित, गिरधर गोपाल की एक प्रतिमा किस मन्दिर में स्थापित है ?
 - (1) श्रीनाथजी, नाथद्वारा
 - (2) मदनमोहनजी, करौली
 - (3) जगत शिरोमणि, आम्बेर
 - (4) गोविन्ददेवजी, जयपुर

3. राजा बिंबिसार के शासन की राजधानी थी

(1) गिरिवृज	(2) वैशाली
(3) अंग	(4) कौशल

4. खिलजी राजवंश का शासनकाल निम्न में से रहा :
 - (1) 1290 ईस्वी से 1320 ईस्वी तक
 - (2) 1280 ईस्वी से 1323 ईस्वी तक
 - (3) 1270 ईस्वी से 1310 ईस्वी तक
 - (4) 1290 ईस्वी से 1330 ईस्वी तक

5. मौर्ययुगीन शिल्पकला का श्रेष्ठ उदाहरण है
 - (1) रामपुरवा का पाषाण वृषभ
 - (2) मथुरा की वर्धमान महावीर की मूर्ति
 - (3) विदिशा की मकरवाहिनी की मूर्ति
 - (4) कौशाम्बी की सूर्य मूर्ति

6. 'परिशिष्ट-पर्वन' के रचयिता हैं

(1) आचार्य भद्रबाहु	(2) आचार्य हेमचन्द्र
(3) आचार्य जिनसेन	(4) आचार्य गुणभद्र

□

1. Which of the following was the movement of the Gurjars against the reign of Bundi ?
 - (1) Peasants Movement of Bengu
 - (2) Peasants Movement of Shekhavati
 - (3) Peasants Movement of Bijolia
 - (4) Peasants Movement of Dabra

2. Worshipped by Meera, one of idol of Girdhar Gopal is situated in which temple ?
 - (1) Shrinath Ji, Nathdwara
 - (2) Madanmohan Ji, Karauli
 - (3) Jagat Shiromani, Amber
 - (4) Govind Deoji, Jaipur

3. The capital of King Bimbisar's reign was

(1) Girivraj	(2) Vaishali
(3) Anga	(4) Kaushal

4. The rule of Khilji dynasty was during the following period :
 - (1) From 1290 A.D. upto 1320 A.D.
 - (2) From 1280 A.D. upto 1323 A.D.
 - (3) From 1270 A.D. upto 1310 A.D.
 - (4) From 1290 A.D. upto 1330 A.D.

5. The best example of Mauryan sculpture is
 - (1) Stone bull of Rampurva
 - (2) Image of Vardhman Mahaveer of Mathura
 - (3) Image of Crocodile ride of Vidisha
 - (4) Sun idol of Koshambi

6. The writer of 'Parishishtaparvan' is
 - (1) Acharya Bhadrabahu
 - (2) Acharya Hemchandra
 - (3) Acharya Jinsen
 - (4) Acharya Gunbhadra

7. अशोक मौर्य के प्रस्तर स्तम्भों पर पशु आकृतियाँ और अभिलेख खुदवाने की कला प्रभावित थी
 (1) ईरान से
 (2) यूनान से
 (3) चीन से
 (4) इनमें से कोई नहीं
8. चोल राजवंश की स्थापना किसने की ?
 (1) विजयालय (2) आदित्य प्रथम
 (3) परान्तक प्रथम (4) राजराज प्रथम
9. 'मन्दिरों का नगर' कहा जाता है
 (1) ऐहोल (2) पट्टडकल
 (3) मान्यखेट (4) वेंगी
10. मध्यकालीन भक्ति आंदोलन का उद्भव कहाँ और किसके द्वारा हुआ ?
 (1) उत्तर भारत के संतों द्वारा
 (2) दक्षिण भारत के आलवार संतों के द्वारा
 (3) पश्चिमी भारत में लोकदेवताओं के द्वारा
 (4) इनमें से कोई नहीं
11. 'मत्तबिलासप्रहसन' का लेखक कौन था ?
 (1) भारवि (2) महेन्द्र वर्मन I
 (3) दण्डिन (4) नरसिंह वर्मन I
12. मोपला विद्रोह में निम्न में से कौन सी घटना नहीं हुई ?
 (1) अंग्रेज अधिकारियों को मार दिया गया।
 (2) रेल लाइनें उखाड़ दी गईं
 (3) हिंदुओं को जबरन मुस्लिम बनाया गया
 (4) इनमें से कोई नहीं
13. देवबंद आंदोलन का नेता कौन नहीं था ?
 (1) रशीद अहमद गाँगोही
 (2) एम.कासिम ननौत्वी
 (3) एम.उल. हसन
 (4) सर सैयद अहमद खाँ
7. The art of rock pillars with inscription and animal figures of Ashoka Maurya was influenced by
 (1) Persia
 (2) Greece
 (3) China
 (4) None of these
8. Who founded the Chola dynasty ?
 (1) Vijayalaya (2) Aditya I
 (3) Parantaka I (4) Rajraj I
9. 'City of Temples' is referred for
 (1) Aihole (2) Pattadakal
 (3) Manyakhet (4) Vengi
10. From where and by whom the medieval Bhakti Movement originated ?
 (1) By the saints of Northern India
 (2) By the Alwars saints of Southern India
 (3) By the folk deities of Western India
 (4) None of these
11. Who was the writer of 'Mattabilasaprahasana' ?
 (1) Bharvi
 (2) Mahendra Verman I
 (3) Dandin
 (4) Narsimha Verman I
12. Which of the following events not occurred during Mopala Kand ?
 (1) The British officers were killed.
 (2) The railway tracks were destroyed.
 (3) The Hindus were converted into the Muslims by force.
 (4) None of these
13. Who was not the leader of Deoband Movement ?
 (1) Rashid Ahmad Gangohi
 (2) M. Qasim Nanautvi
 (3) M. Ul. Hasan
 (4) Sir Syed Ahmed Khan

14. अलबरूनी समकालीन था
 (1) महमूद गजनवी
 (2) मोहम्मद गौरी
 (3) अलाउद्दीन खिलजी
 (4) मोहम्मद बिन तुगलक

15. सुभाषचन्द्र बोस को निम्न में से किस देश ने सैनिक सहायता दी ?
 (1) जर्मनी (2) अफ़गानिस्तान
 (3) रशिया (रूस) (4) इटली

16. 'सिंह सभा' की स्थापना किस वर्ष हुई ?
 (1) 1873 ईस्वी (2) 1860 ईस्वी
 (3) 1850 ईस्वी (4) 1880 ईस्वी

17. निम्नलिखित में से गलत युग्म लिखिये :
 (1) भारत पर चीन का आक्रमण - 1962
 (2) गोवा को पुर्तगाल से आज़ादी - 1961
 (3) भारत-पाक युद्ध - 1965
 (4) ताशकन्द समझौता - 1968

18. सूची-I को सूची-II से सुमेलित कीजिए तथा सूचियों के नीचे दिए गए कूटों का उपयोग कर सही उत्तर चुनिए :

सूची-I (पर्वतीय चोटी)	सूची-II (देश)
A. माउन्ट विटने	i. तन्ज़ानिया
B. माउन्ट कोसिउस्को	ii. अर्जेन्टाइना
C. एकाकागुआ	iii. संयुक्त राज्य अमेरिका
D. माउन्ट किलिमन्जारो	iv. ऑस्ट्रेलिया

कूट :

	A	B	C	D
(1)	ii	iii	i	iv
(2)	iv	ii	iv	iii
(3)	i	iii	ii	iv
(4)	iii	iv	ii	i

14. Alberuni was the contemporary of
 (1) Mahmud Ghajnavi
 (2) Mohammed Ghori
 (3) Allauddin Khalji
 (4) Mohammad Bin Tughlaq

15. Which of the following countries gave military aid to Subhash Chandra Bose ?
 (1) Germany (2) Afganistan
 (3) Russia (4) Italy

16. 'Singh Sabha' was founded in the year
 (1) 1873 A.D. (2) 1860 A.D.
 (3) 1850 A.D. (4) 1880 A.D.

17. Mention the wrong match in the followings :
 (1) Attack on India by - 1962
 China
 (2) Freedom of Goa from - 1961
 Portugese
 (3) War between India and - 1965
 Pakistan
 (4) Taskand Agreement - 1968

18. Match List-I with List-II and select the correct answer using the code given below :

List - I (Mountain Peak)	List - II (Country)
A. Mt. Whitney	i. Tanzania
B. Mt. Kosciurzko	ii. Argentina
C. Aconcagua	iii. U.S.A.
D. Mt. Kilimanjaro	iv. Australia

Codes :

	A	B	C	D
(1)	ii	iii	i	iv
(2)	iv	ii	iv	iii
(3)	i	iii	ii	iv
(4)	iii	iv	ii	i

19. IUCN का विस्तार है
- (1) इन्टरनेशनल यूनियन फॉर कन्जर्वेशन ऑफ नेचर
 - (2) इन्टरनेशनल यूनाइटेड कन्वेंशन ऑन नेचर
 - (3) इन्टरनेशनल यूनाइटेड को-ऑपरेशन फॉर नेशन्स
 - (4) इन्टरनेशनल यूनियन फॉर कन्जर्विंग नेचुरल एन्वायरनमेन्ट

20. विश्व की व्यस्ततम नौगम्य नदी है
- (1) ह्वांग हो
 - (2) सीन
 - (3) राइन
 - (4) लौयर

21. सूची-I को सूची-II से सुमेलित कीजिए तथा सूचियों के नीचे दिए गए कूटों का उपयोग कर सही उत्तर का चयन कीजिए :

सूची-I (देश)	सूची-II (औद्योगिक प्रदेश)
-----------------	------------------------------

- | | |
|--------------------------|----------------------|
| A. संयुक्त राज्य अमेरिका | i. यार्कशायर |
| B. यूनाइटेड किंगडम | ii. पिट्सबर्ग |
| C. जापान | iii. सेन्ट पिट्सबर्ग |
| D. रूस | iv. किनकी |

कूट :

- | | A | B | C | D |
|-----|-----|-----|-----|-----|
| (1) | ii | i | iv | iii |
| (2) | iv | ii | iii | i |
| (3) | iii | iv | ii | i |
| (4) | i | iii | iv | ii |

22. निम्नलिखित में से दक्षिण से उत्तर की ओर की पर्वतश्रेणियों का सही क्रम कौन सा है ?
- (1) जान्सकर पर्वतश्रेणी, पीरपंजाल पर्वतश्रेणी, कराकोरम पर्वतश्रेणी, लद्दाख पर्वतश्रेणी
 - (2) पीरपंजाल पर्वतश्रेणी, लद्दाख पर्वतश्रेणी, जान्सकर पर्वतश्रेणी, कराकोरम पर्वतश्रेणी
 - (3) जान्सकर पर्वतश्रेणी, लद्दाख पर्वतश्रेणी, कराकोरम पर्वतश्रेणी, पीरपंजाल पर्वतश्रेणी
 - (4) पीरपंजाल पर्वतश्रेणी, जान्सकर पर्वतश्रेणी, लद्दाख पर्वतश्रेणी, कराकोरम पर्वतश्रेणी

19. IUCN stands for
- (1) International Union for Conservation of Nature
 - (2) International United Convention on Nature
 - (3) International United Co-operation for Nations
 - (4) International Union for Conserving Natural Environment

20. The busiest navigable river of the world is
- (1) Hwang-Ho
 - (2) Seine
 - (3) Rhine
 - (4) Loire

21. Match List-I with List-II and select the correct answer using the code given below :

List - I
(Country)

List - II
(Industrial Region)

- | | |
|-------------------|---------------------|
| A. U.S.A. | i. Yorkshire |
| B. United Kingdom | ii. Pittsburgh |
| C. Japan | iii. St. Petersburg |
| D. Russia | iv. Kinki |

Codes :

- | | A | B | C | D |
|-----|-----|-----|-----|-----|
| (1) | ii | i | iv | iii |
| (2) | iv | ii | iii | i |
| (3) | iii | iv | ii | i |
| (4) | i | iii | iv | ii |

22. Which one of the following is the correct sequence of ranges from south to north ?

- (1) Zaskar range, Pirpanjal range, Karakoram range, Ladakh range
- (2) Pirpanjal range, Ladakh range, Zaskar range, Karakoram range
- (3) Zaskar range, Ladakh range, Karakoram range, Pirpanjal range
- (4) Pirpanjal range, Zaskar range, Ladakh range, Karakoram range

23. कौन सा जोड़ा गलत है ?

(राज्य) (स्थानान्तरित कृषि)

- (1) केरल - पोनम
- (2) आंध्रप्रदेश - पोडु
- (3) झारखण्ड - खिल
- (4) असम - झूम

24. निम्नलिखित में से कौन सा एक सही सुमेलित नहीं है ?

(लौह अयस्क खनन क्षेत्र) (राज्य)

- (1) बैलाडिला - छत्तीसगढ़
- (2) कुद्रेमुख - कर्नाटक
- (3) क्योझार - ओडिशा
- (4) नाओमुंडी - पश्चिम बंगाल

25. कौन सा सुमेलित नहीं है ?

(उद्योग) (स्थिति)

- (1) एल्युमिनियम - कोरबा
- (2) कागज - भटिण्डा
- (3) रासायनिक उर्वरक - तालचेर
- (4) लौह-इस्पात - सलेम

26. उत्तर-दक्षिण गलियारा निम्न शहरों में होकर गुजरता है :

- (1) अम्बाला, नागपुर, हैदराबाद, मदुरै
- (2) पठानकोट, भोपाल, अकोला, मैसूर
- (3) जम्मू, जबलपुर, निजामाबाद, रामनाथपुरम
- (4) लुधियाना, उदयपुर, हुबली, बेंगलुरु

23. Which is not a correct match ?

(State) (Shifting Agriculture)

- (1) Kerala - Ponam
- (2) Andhra Pradesh - Podu
- (3) Jharkhand - Khil
- (4) Assam - Jhoom

24. Which one of the following is not correctly matched ?

(Iron ore Mining Area) (State)

- (1) Bailadila - Chhattisgarh
- (2) Kudremukh - Karnataka
- (3) Keonjhar - Odisha
- (4) Naomundi - West Bengal

25. Which is not a correct match ?

Industry Location

- (1) Alluminium - Korba
- (2) Paper - Bhatinda
- (3) Chemical Fertilizer - Talcher
- (4) Iron and Steel - Salem

26. The North-South Corridor Highway passes through the following cities :

- (1) Ambala, Nagpur, Hyderabad, Madurai
- (2) Pathankot, Bhopal, Akola, Mysore
- (3) Jammu, Jabalpur, Nizamabad, Ramnathpuram
- (4) Ludhiana, Udaipur, Hubli, Bengaluru



27. निम्नलिखित में से अरावली के दर्रे कौन से हैं ?
दिये गये कूट का उपयोग कर सही उत्तर का
चयन करें :

- A. शिवपुर घाट B. जेतवास
C. देबारी D. मुकन्दरा

कूट :

- (1) A और B सही हैं ।
(2) A, B और C सही हैं ।
(3) A और C सही हैं ।
(4) B, C और D सही हैं ।

28. "राजस्थान वानिकी एवं जैवविविधता योजना"
(2011-19) निम्न में किससे संबंधित नहीं है ?

- (1) वृक्षारोपण
(2) आजीविका संवर्धन
(3) जैव-विविधता संरक्षण
(4) सिंचाई विकास

29. सूची-I का सूची-II से मिलान कर निम्नलिखित
कूट में से सही उत्तर का चुनाव कीजिए :

सूची-I
(नदी)

सूची-II
(बाँध)

- | | |
|-----------|-------------------|
| A. सतलज | i. बीसलपुर |
| B. बनास | ii. मेजा |
| C. कोठारी | iii. भाखड़ा-नांगल |
| D. सूकड़ी | iv. बाँकली |

कूट :

- | | | | | |
|-----|-----|-----|-----|----|
| | A | B | C | D |
| (1) | iii | i | ii | iv |
| (2) | i | ii | iii | iv |
| (3) | iv | iii | ii | i |
| (4) | ii | iii | iv | i |

30. निम्नलिखित में से कौन सा जोड़ा गलत है ?
(खनिज) (प्रमुख खानें)

- | | |
|-----------------|-----------------|
| (1) सीसा-जस्ता | - राजपुरा दरीबा |
| (2) लौह-अयस्क | - डाबला क्षेत्र |
| (3) ताँबा | - लीलवानी |
| (4) रॉक फास्फेट | - झामर कोटडा |

27. Which of the following passes are in
Aravalli. Select the answer using
codes given below :

- A. Shivpur Ghat B. Jetwas
C. Debari D. Mukandara

Codes :

- (1) A and B are correct.
(2) A, B and C are correct.
(3) A and C are correct.
(4) B, C and D are correct.

28. The Rajasthan Forestry and
Biodiversity Project (2011-2019) is
not related to which of the following ?

- (1) Afforestation
(2) Livelihood promotion
(3) Biodiversity conservation
(4) Irrigation development

29. Match List-I with List-II and select the
correct answer from the codes given
below : :

List-I
(Rivers)

List-II
(Dams)

- | | |
|------------|--------------------|
| A. Satluj | i. Bisalpur |
| B. Banas | ii. Meja |
| C. Kothari | iii. Bhakra-Nangal |
| D. Sukdi | iv. Bankali |

Codes :

- | | | | | |
|-----|-----|-----|-----|----|
| | A | B | C | D |
| (1) | iii | i | ii | iv |
| (2) | i | ii | iii | iv |
| (3) | iv | iii | ii | i |
| (4) | ii | iii | iv | i |

30. Which of the following match is
incorrect ?

(Mineral)

(Major Mines)

- | | |
|--------------------|-----------------------|
| (1) Lead-Zinc | - Rajpura -
Dariba |
| (2) Iron-Ore | - Dabla region |
| (3) Copper | - Leelwani |
| (4) Rock Phosphate | - Jhamar Kotda |

31. सन् 2011 में राजस्थान में कौन से जिलों में उनकी कुल जनसंख्या में सर्वाधिक प्रतिशत ग्रामीण और नगरीय जनसंख्या है ?

(ग्रामीण) (नगरीय)

- | | |
|---------------|----------|
| (1) बाड़मेर | – अजमेर |
| (2) सिरोही | – जोधपुर |
| (3) प्रतापगढ़ | – जयपुर |
| (4) डूंगरपुर | – कोटा |

32. अनुसूचित जनजाति के प्रतिशत (2011) के अनुसार जिलों का सही अवरोही क्रम है :

- (1) डूंगरपुर, बाँसवाड़ा, उदयपुर, प्रतापगढ़
- (2) बाँसवाड़ा, डूंगरपुर, प्रतापगढ़, उदयपुर
- (3) बाँसवाड़ा, प्रतापगढ़, उदयपुर, डूंगरपुर
- (4) डूंगरपुर, उदयपुर, प्रतापगढ़, बाँसवाड़ा

33. अंतिम रूप से पारित संविधान पर संविधान सभा के कितने सदस्यों ने हस्ताक्षर किए ?

- | | |
|---------|---------|
| (1) 299 | (2) 324 |
| (3) 302 | (4) 284 |

34. निम्नांकित में से कौन 1953 में गठित राज्य पुनर्गठन आयोग के सदस्य नहीं थे ?

- | | |
|--------------------|-----------------------|
| (1) फ़जल अली | (2) पट्टाभि सीतारमैया |
| (3) हृदयनाथ कुंजरु | (4) के.एम. पनिककर |

35. 100वें संविधान संशोधन से प्रभावित राज्यों का समूह है

- (1) पश्चिम बंगाल, त्रिपुरा, मेघालय
- (2) पश्चिम बंगाल, सिक्किम, असम
- (3) पश्चिम बंगाल, असम, मणिपुर
- (4) पश्चिम बंगाल, त्रिपुरा, सिक्किम

31. Which districts of Rajasthan are having highest percentage to rural and urban population in their total population in 2011 ?

(Rural) (Urban)

- | | |
|----------------|---------|
| (1) Barmer | Ajmer |
| (2) Sirohi | Jodhpur |
| (3) Pratapgarh | Jaipur |
| (4) Dungarpur | Kota |

32. The correct sequence of districts according to percentage of Schedule Tribe population (2011) in descending order is :

- (1) Dungarpur, Banswara, Udaipur, Pratapgarh
- (2) Banswara, Dungarpur, Pratapgarh, Udaipur,
- (3) Banswara, Pratapgarh, Udaipur, Dungarpur
- (4) Dungarpur, Udaipur, Pratapgarh, Banswara

33. How many members of the Constituent assembly appended their signature to the Constitution as finally passed ?

- | | |
|---------|---------|
| (1) 299 | (2) 324 |
| (3) 302 | (4) 284 |

34. Who among the following was not a member of States Reorganisation Committee constituted in 1953 ?

- (1) Fazal Ali
- (2) Pattabhi Sitarammayya
- (3) Hridaynath Kunzru
- (4) K.M. Panikkar

35. The affected group of states from 100th Constitutional Amendment is

- (1) West Bengal, Tripura, Meghalaya
- (2) West Bengal, Sikkim, Assam
- (3) West Bengal, Assam, Manipur
- (4) West Bengal, Tripura, Sikkim

36. राज्यसभा में आबंटित स्थानों के संबंध में निम्नांकित में कौन सा सुमेलित नहीं है ?

- (1) असम - 07
 (2) केरल - 10
 (3) गोआ - 01
 (4) छत्तीसगढ़ - 05

37. राजस्थान में लोकायुक्त के संदर्भ में, निम्न में से कौन सा कथन सही नहीं है ?

- (1) भ्रष्टाचार के मामलों की जाँच करता है किंतु कुप्रशासन की नहीं।
 (2) मुख्यमंत्री उसके जाँच क्षेत्र से बाहर है।
 (3) वह अपना वार्षिक प्रतिवेदन राज्यपाल को प्रस्तुत करता है।
 (4) उसकी सिफारिशें सरकार के लिए बाध्यकारी होती हैं।

38. निम्नांकित को सुमेलित कीजिए और दिए गए कूट में से सही उत्तर चुनिए :

नेता	राजनीतिक दल
i. श्यामा प्रसाद मुखर्जी	A. प्रजा सोशलिस्ट पार्टी
ii. सी.राजगोपालाचारी	B. भारतीय जनसंघ
iii. ए.के. गोपालन	C. भारतीय स्वतंत्र पार्टी
iv. आचार्य नरेन्द्र देव	D. कम्यूनिस्ट पार्टी ऑफ इंडिया (मार्क्सवादी)

कूट :

	i	ii	iii	iv
(1)	A	B	C	D
(2)	B	C	D	A
(3)	B	C	A	D
(4)	C	B	D	A

01(General Studies)

36. Which one of the following is not correctly matched regarding allocation of seats in the council of states ?

- (1) Assam - 07
 (2) Kerala - 10
 (3) Goa - 01
 (4) Chhattisgarh - 05

37. Which of the following statements is not correct about Lokayukta in Rajasthan ?

- (1) Investigation matter of corruption but not maladministration.
 (2) Chief Minister is out of his Purview.
 (3) He submits his annual report to the Governor.
 (4) His recommendations are binding to the Government.

38. Match the following and choose the correct set of alternatives out of given code :

Leader	Political Party
i. Shyama Prasad Mukherjee	A. Praja Socialist Party
ii. C. Rajgopalachari	B. Bhartiya Janasangh
iii. A.K. Gopalan	C. Bhartiya Swatantra Party
iv. Acharya Narendra Dev	D. Communist Party of India (Marxist)

Code :

	(i)	(ii)	(iii)	(iv)
(1)	A	B	C	D
(2)	B	C	D	A
(3)	B	C	A	D
(4)	C	B	D	A

39. संविधान के अनुच्छेद-178 के अनुसार, विधानसभा अध्यक्ष होता है

- (1) निर्वाचित (2) मनोनीत
(3) चयनित (4) नियुक्त

40. किस संवैधानिक संशोधन के द्वारा पांडिचेरी विधानसभा के निर्वाचित सदस्य भारत के राष्ट्रपति के निर्वाचक मंडल में सम्मिलित हुए ?

- (1) 70वें संवैधानिक संशोधन
(2) 69वें संवैधानिक संशोधन
(3) 54वें संवैधानिक संशोधन
(4) 71वें संवैधानिक संशोधन

41. भारत के संविधान के किस अनुच्छेद के अंतर्गत महानगर योजना के लिए समिति का गठन किया जाता है ?

- (1) अनुच्छेद 243 य ड
(2) अनुच्छेद 243 य च
(3) अनुच्छेद 243 य छ
(4) अनुच्छेद 243 य ज

42. भारत के संविधान की ग्यारहवीं अनुसूची का संबंध निम्नांकित में से किस अनुच्छेद से है ?

- (1) 243 छ (2) 243 ज
(3) 243 झ (4) 243 ञ

43. निम्नांकित में से कौन, लोकपाल के लिए चयन समिति का सदस्य नहीं है ?

- (1) प्रधानमंत्री
(2) निम्न सदन के स्पीकर
(3) उच्च सदन में विपक्ष के नेता
(4) भारत के मुख्य न्यायाधीश

39. According to Article-178 of the Constitution, the speaker of the legislative assembly is :

- (1) elected (2) nominated
(3) chosen (4) appointed

40. By which Constitutional Amendment, the elected members of Pondicherry Legislative Assembly were included to the electoral college of the President of India ?

- (1) 70th Constitutional Amendment
(2) 69th Constitutional Amendment
(3) 54th Constitutional Amendment
(4) 71st Constitutional Amendment

41. The committee for Metropolitan planning is constituted under which Article of the Constitution of India ?

- (1) Article 243 ZE
(2) Article 243 ZF
(3) Article 243 ZG
(4) Article 243 ZH

42. Eleventh Schedule of the Constitution of India is related to which of the following Article ?

- (1) 243 G (2) 243 H
(3) 243 I (4) 243 J

43. Which of the following is not Member of the Selection Committee for Lokpal ?

- (1) Prime Minister
(2) Speaker of the lower house
(3) Leader of the opposition of the upper house
(4) Chief Justice of India

44. भारत के संविधान में अंतरिम संसद द्वारा कितने संशोधन किये गये ?
 (1) 1 (2) 2
 (3) 3 (4) 4
45. 'वर्किंग ए डेमोक्रेटिक कॉन्स्टिट्यूशन' के लेखक हैं
 (1) ग्रैन्विल ऑस्टिन (2) रॉबर्ट हार्डग्रेव
 (3) मॉरिस जोन्स (4) रजनी कोठारी
46. संसद के सदन द्वारा इसकी बैठकों में लगातार कितने दिन अनुपस्थित रहने पर किसी सदस्य का स्थान रिक्त घोषित किया जा सकता है ?
 (1) 45 (2) 50
 (3) 60 (4) 70
47. निम्नांकित महिलाओं में से कौन भारत की मुख्य निर्वाचन आयुक्त रही है ?
 (1) वी.एस. रमा देवी
 (2) जयन्ती पट्टनायक
 (3) विभा पार्थसारथी
 (4) वी. मोहिनी गिरी
48. 'रोग एलीफेंट : हार्नेसिंग द इंडियाज अनरुली डेमोक्रेसी' पुस्तक के लेखक हैं
 (1) साइमन डेनयर
 (2) अतुल कोहली
 (3) सुदीप्ता कविराज
 (4) सुनील खिलनानी
49. विधान सभा में अभिभाषण का एवं संदेश भेजने का राज्यपाल का संविधानतः है
 (1) अधिकार (2) शक्ति
 (3) कृत्य (4) कर्तव्य
44. How many amendments in the constitution of India were made by the interim parliament ?
 (1) 1 (2) 2
 (3) 3 (4) 4
45. Who authored the book 'Working a Democratic Constitution' ?
 (1) Granville Austin
 (2) Robert Hardgrave
 (3) Morris Jones
 (4) Rajani Kothari
46. The house of parliament can declare the seat vacant of the member in question, if he absents himself for how many days from all meetings of the house ?
 (1) 45 (2) 50
 (3) 60 (4) 70
47. Who among the following women had been Chief Election Commissioner of India ?
 (1) V.S. Rama Devi
 (2) Jayanti Pattnayak
 (3) Vibha Parthasarathi
 (4) V. Mohini Giri
48. Who authored the book, "Rogue Elephant : Harnessing the India's Unruly Democracy" ?
 (1) Simon Denyer
 (2) Atul Kohli
 (3) Sudipta Kaviraj
 (4) Sunil Khilnani
49. To address and send messages to Legislative Assembly is Constitutionally Governor's :
 (1) Right (2) Power
 (3) Function (4) Duty

50. संविधान के अनुच्छेद 164 (1) के अनुसार, राजस्थान का मुख्यमंत्री होता है
 (1) निर्वाचित (2) चयनित
 (3) मनोनीत (4) नियुक्त
51. किस वर्ष में, राजस्थान विधान सभा की कुल सदस्य संख्या बढ़ाकर 200 की गई ?
 (1) 1967 में (2) 1972 में
 (3) 1977 में (4) 1980 में
52. उच्च न्यायालय के न्यायाधीश के संबंध में निम्नांकित कथनों पर विचार कीजिए :
 I. वह राष्ट्रपति द्वारा नियुक्त होता/होती है ।
 II. उसे पद की शपथ राज्य के राज्यपाल द्वारा दिलाई जाती है ।
 III. वह अपना त्यागपत्र भारत के मुख्य न्यायमूर्ति को देता है ।
 (1) केवल I एवं II सही हैं ।
 (2) केवल II एवं III सही हैं ।
 (3) केवल I एवं III सही हैं ।
 (4) I, II एवं III सभी सही हैं ।
53. निम्नलिखित में से कौन सा राजकोषीय घाटे को परिभाषित करता है ?
 (i) राजस्व प्राप्तियाँ + पूँजी प्राप्तियाँ - कुल व्यय
 (ii) बजट घाटा + सरकार के बाजार ऋण तथा देयताएँ
 (iii) राजस्व प्राप्तियाँ - पूँजी प्राप्तियाँ + कुल व्यय
 (iv) बजट घाटा - सरकार के बाजार ऋण तथा देयताएँ
 नीचे दिये कूटों में से सही उत्तर चुनिये -
 (1) केवल (i) (2) (i) तथा (ii)
 (3) केवल (iii) (4) (iii) तथा (iv)

50. According to Article 164(1) of the Constitution, the Chief Minister of Rajasthan is :
 (1) elected (2) selected
 (3) nominated (4) appointed
51. In which year, the strength of Rajasthan Legislative Assembly was raised to 200 ?
 (1) 1967 (2) 1972
 (3) 1977 (4) 1980
52. Consider the following statements regarding High Court Judge :
 I. He/She is appointed by the President.
 II. He/She is administered Oath of office by the Governor of the state.
 III. He/She tenders his/her resignation to the Chief Justice of India.
 (1) Only I and II are correct.
 (2) Only II and III are correct.
 (3) Only I and III are correct.
 (4) I, II and III all are correct
53. Which of the following defines Fiscal deficit ?
 (i) Revenue Receipt + Capital Receipts - Total Expenditure.
 (ii) Budget deficit + Government's market borrowings and liabilities
 (iii) Revenue Receipts - Capital Receipts + Total Expenditure
 (iv) Budget deficit - Government's market borrowings and liabilities
 Select the correct answer from the codes given below :
 (1) Only (i) (2) (i) and (ii)
 (3) Only (iii) (4) (iii) and (iv)

54. व्यक्तिगत प्रयोज्य आय (खर्च योग्य आय) बराबर है
- (1) वैयक्तिक आय – अप्रत्यक्ष कर
 - (2) वैयक्तिक आय – प्रत्यक्ष कर
 - (3) उपभोग व्यय + बचत
 - (4) दोनों वैयक्तिक आय – प्रत्यक्ष कर तथा उपभोग व्यय + बचत

55. हैरॉड-डॉमर मॉडल के अनुसार दिये गये सीमान्त पूँजी उत्पादन अनुपात में, अभीष्ट वृद्धि दर निम्न में से किस पर निर्भर करती है ?
- (1) श्रम-शक्ति की वृद्धि दर
 - (2) निवेश की सीमान्त उत्पादकता
 - (3) पूँजी की सीमान्त दक्षता
 - (4) बचत-आय अनुपात

56. 'रेपो दर' को परिभाषित कीजिए।
- (1) वह ब्याज दर जिस पर रिज़र्व बैंक चलनिधि समायोजन सुविधा के तहत बैंकों को सरकार के संपार्श्विक के विरुद्ध और अन्य अनुमोदित प्रतिभूतियों के विरुद्ध ओवरनाइट चलनिधि प्रदान करता है।
 - (2) वह ब्याज दर पर जिस पर रिज़र्व बैंक चलनिधि समायोजन सुविधा के तहत बैंकों से पात्र सरकारी प्रतिभूतियों के संपार्श्विक के विरुद्ध, ओवरनाइट आधार पर, चलनिधि को अवशोषित करता है।
 - (3) दोनों वह ब्याज दर जिस पर रिज़र्व बैंक चलनिधि समायोजन सुविधा के तहत बैंकों को सरकार के संपार्श्विक के विरुद्ध और अन्य अनुमोदित प्रतिभूतियों के विरुद्ध ओवरनाइट चलनिधि प्रदान करता है। तथा वह ब्याज दर पर जिस पर रिज़र्व बैंक चलनिधि समायोजन सुविधा के तहत बैंकों से पात्र सरकारी प्रतिभूतियों के संपार्श्विक के विरुद्ध, ओवरनाइट आधार पर, चलनिधि को अवशोषित करता है।
 - (4) इनमें से कोई नहीं

54. Personal Disposable income is equal to
- (1) Personal Income – Indirect taxes
 - (2) Personal Income – Direct taxes
 - (3) Consumption Expenditure + Savings
 - (4) Both Personal Income – Direct taxes and Consumption Expenditure + Savings

55. According to Harrod-Domar model, Warranted Rate of Growth depends on which of the following on given incremental capital output ratio :
- (1) Growth rate of labour force
 - (2) Marginal Productivity of investment
 - (3) Marginal efficiency of capital
 - (4) Saving-income ratio

56. Define 'Repo Rate'.
- (1) The interest rate at which the Reserve Bank provides overnight liquidity to banks against the collateral of government and other approved securities under the liquidity adjustment facility.
 - (2) The interest rate at which the Reserve Bank absorbs liquidity, on an overnight basis, from banks against the collateral of eligible government securities under the liquidity adjustment facility.
 - (3) Both the interest rate at which the Reserve Bank provides overnight liquidity to banks against the collateral of government and other approved securities under the liquidity adjustment facility and the interest rate at which the Reserve Bank absorbs liquidity, on an overnight basis, from banks against the collateral of eligible government securities under the liquidity adjustment facility.
 - (4) None of these

57. माँग-जन्य स्फीति से क्या अभिप्राय है ?

- (1) बहुत अधिक वस्तुएँ बहुत कम मुद्रा का पीछा करती है।
- (2) बहुत अधिक मुद्रा बहुत कम वस्तुओं का पीछा करती है।
- (3) मुद्रा के मूल्य में वृद्धि होना
- (4) मजदूरी में वृद्धि

58. वर्ष 2017-18 के दौरान, कृषि शोध तथा शिक्षा में निवेश से, कितने पेटेन्ट्स को भारतीय पेटेन्ट कार्यालय में नये/नवीन कृषि नवोन्मेषों को सुरक्षित करने हेतु दर्ज करवाया ?

- | | |
|--------|--------|
| (1) 25 | (2) 30 |
| (3) 45 | (4) 55 |

59. क्रेडिट लिंक्ड कैपिटल सब्सिडी स्कीम का उद्देश्य क्या है ?

- (1) एम.एस.एम.ई. क्षेत्र को तकनीकी उन्नयन सुविधा
- (2) सूक्ष्म उद्यमों के गैर-कृषि क्षेत्र में स्वरोजगार को उत्पन्न करना
- (3) योग्य उधार संस्थान द्वारा संपार्श्विक मुक्त साख सुविधा का विस्तार
- (4) गैर-सरकारी लघु व्यावसायिक क्षेत्र को वित्त पोषण

60. निम्नलिखित में से भारत के कौन से राज्य/केन्द्र शासित प्रदेश का हिस्सा सेवाओं की सकल राज्य मूल्य वर्धिता में वर्ष 2016-17 में सर्वोच्च योगदान के साथ 80 प्रतिशत रहा ?

- (1) बिहार तथा उत्तर प्रदेश
- (2) सिक्किम तथा गोवा
- (3) दिल्ली तथा चण्डीगढ़
- (4) गुजरात तथा महाराष्ट्र

57. Demand Pull Inflation means

- (1) Too many Goods chasing too less money.
- (2) Too much money chasing too less goods.
- (3) Increase in the value of money
- (4) Increase in wages

58. During the year 2017-18, investment in Agriculture Research and Education Protected new agricultural innovations by filling how many patents at Indian Patent office ?

- | | |
|--------|--------|
| (1) 25 | (2) 30 |
| (3) 45 | (4) 55 |

59. What is the aim of Credit Linked Capital Subsidy Scheme (CLCSS) ?

- (1) Facilitating Technology upgradation of the MSME sector
- (2) Generating self-employment of micro enterprises in the non-farm sector.
- (3) Collateral free credit facility extended by eligible lending institution.
- (4) Funding to non-corporate small business sector.

60. Which of the following State/UTs of India are at the top with 80 percent share of services GSVA (Gross State Value Added) in year 2016-17 ?

- (1) Bihar and Uttar Pradesh
- (2) Sikkim and Goa
- (3) Delhi and Chandigarh
- (4) Gujarat and Maharashtra

61. वर्ष 2018 में, मानव विकास सूचकांक में भारत का क्या स्थान है ?

- (1) 127 (2) 128
(3) 129 (4) 130

62. भारत में अटल पेंशन योजना का लक्षित वर्ग क्या है ?

- (1) बेरोजगार शिक्षित वर्ग
(2) बेरोजगार अशिक्षित वर्ग
(3) असंगठित क्षेत्र के कामगार
(4) संगठित क्षेत्र के कामगार

63. निम्नलिखित में से महिला शक्ति केन्द्र के सन्दर्भ में क्या सत्य है ?

- (i) नेतृत्व विकास तथा महिला मुद्दों को संबोधित करने हेतु आरंभ की गई।
(ii) महिला के स्वास्थ्य मुद्दों को संशोधित करने हेतु आरंभ की गई।
(iii) इस योजना के अन्तर्गत 640 जिला केन्द्र हैं।

नीचे दिये गये कूटों में चुनिये :

- (1) केवल (i) (2) (i) तथा (ii)
(3) (i) तथा (iii) (4) (ii) तथा (iii)

64. राष्ट्रीय आयुष मिशन निम्नलिखित में से किससे सम्बन्धित है ?

- (i) पशुपालन
(ii) औषधीय पौधों की खेती को बढ़ाना
(iii) बाँस की खेती
(iv) जैविक खाद
(v) फार्मा सेक्टर को पर्याप्त मात्रा में आसानी से कच्चा माल उपलब्ध कराना

नीचे दिये गये कूटों में से सही उत्तर चुनिये :

- (1) (i) व (ii) (2) (i), (ii) तथा (iii)
(3) (ii) तथा (iv) (4) (ii) तथा (v)

61. What is the Rank of India in Human Development Index in year 2018 ?

- (1) 127 (2) 128
(3) 129 (4) 130

62. What is the targeted section of Atal Pension Scheme in India ?

- (1) Unemployed Educated Section
(2) Unemployed Uneducated Section
(3) Unorganised Sector Workers
(4) Organised Sector Workers

63. Which of the following is true about Mahila Shakti Kendra Scheme ?

- (i) Launched for leadership development and to address Women's issues
(ii) Launched to address women's health issues.
(iii) There are 640 district centres under this scheme.

Choose the codes given below :

- (1) Only (i) (2) (i) and (ii)
(3) (i) and (iii) (4) (ii) and (iii)

64. National Ayush Mission is related to which of the following ?

- (i) Animal Husbandry
(ii) Promoting Cultivation of Medicinal plants
(iii) Bamboo Cultivation
(iv) Organic fertilizers
(v) Raw materials to Pharmacy sector could easily be made available in sufficient quantity

Choose the correct answer from the codes below :

- (1) (i) and (ii) (2) (i), (ii) and (iii)
(3) (ii) and (iv) (4) (ii) and (v)

65. रीको द्वारा कौन से चार एग्रो फूड पार्क्स विकसित किये जा चुके हैं ?
- (1) बोरनाडा, कोटा, अलवर, श्रीगंगानगर
 - (2) बाड़मेर, कोटा, अलवर, बीकानेर
 - (3) जोधपुर, कोटा, बाड़मेर, श्रीगंगानगर
 - (4) बीकानेर, बोरनाडा, अलवर, बाड़मेर
66. राजस्थान सौर ऊर्जा नीति कब जारी की गई ?
- (1) 8 अक्टूबर, 2013
 - (2) 8 अक्टूबर, 2014
 - (3) 8 अक्टूबर, 2015
 - (4) 8 अक्टूबर, 2016
67. निम्नलिखित में से अटल मिशन फोर रिजुवनेशन एवं अरबन ट्रांसफोरमेशन (अमृत) योजना के सन्दर्भ में क्या सत्य है ?
- (i) अमृत योजना माननीय प्रधानमंत्री द्वारा माह जून, 2015 में आरम्भ की गई ।
 - (ii) राजस्थान में कुल 30 शहरों को इस योजना के अन्तर्गत चयनित किया गया है ।
 - (iii) जलापूर्ति, सीवरेज और सेप्टेज प्रबन्धन, नालियाँ, परिवहन सुविधायें एवं हरित स्थलों की इस मिशन के अन्तर्गत पहचान की गई है ।
- नीचे दिये गये कूटों में से सही उत्तर चुनिये :
- (1) केवल (i)
 - (2) (i) और (ii)
 - (3) (i) और (iii)
 - (4) (i), (ii) और (iii)
68. एक कला दीर्घा में एक कलाकृति दो समानान्तर समतल दर्पणों के मध्य रखी गई है । उसके बनने वाले प्रतिबिम्बों की संख्या होगी
- (1) दो
 - (2) तीन
 - (3) ग्यारह
 - (4) अनन्त

65. Which four Agro Food Parks are developed by RIICO ?
- (1) Bornada, Kota, Alwar, Shriganganagar
 - (2) Badmer, Kota, Alwar, Bikaner
 - (3) Jodhpur, Kota, Badmer, Shriganganagar
 - (4) Bikaner, Bornada, Alwar, Badmer
66. When did 'Rajasthan Solar Energy Policy launch ?
- (1) 8th October, 2013
 - (2) 8th October, 2014
 - (3) 8th October, 2015
 - (4) 8th October, 2016
67. Which of the following is true about 'Atal Mission for Rejuvenation and Urban Transformation' (AMRUT) ?
- (i) AMRUT was launched by Hon'ble Prime Minister of India in June, 2015.
 - (ii) 30 cities in Rajasthan are selected under AMRUT.
 - (iii) The sectors identified under this mission are water supply, sewerage & Septage, Drainage, Urban Transport and Green Spaces.
- Choose the correct answer from the codes given below :
- (1) Only (i)
 - (2) (i) and (ii)
 - (3) (i) and (iii)
 - (4) (i), (ii) and (iii)
68. In an art gallery an artefact is placed between two parallel plain mirrors. The number of its images formed will be :
- (1) Two
 - (2) Three
 - (3) Eleven
 - (4) Infinite

69. निम्नलिखित में से कौन से जैव भूरासायनिक चक्र में समस्त अधोलिखित प्रक्रियाएँ सम्मिलित होती हैं : संघनन, पिघलना, वाष्पोत्सर्जन, वाष्पीकरण, जमना

- (1) नाइट्रोजन चक्र (2) कार्बन चक्र
(3) जल चक्र (4) सल्फर चक्र

70. स्वतंत्रतापूर्वक लटका हुआ एक दंड चुम्बक सदा स्थिर होगा

- (1) उत्तर-दक्षिण दिशा में
(2) पूर्व-पश्चिम दिशा में
(3) दक्षिण-पश्चिम दिशा में
(4) उत्तर-पूर्व दिशा में

71. बल के लिए अन्तर्राष्ट्रीय (SI) मात्रक है

- (1) जूल (2) न्यूटन
(3) पाऊँड (4) पास्कल

72. PSLV का पूर्ण विस्तार है

- (1) पब्लिक सैटेलाइट लॉन्च व्हीकल
(2) पीपल सैटेलाइट लॉन्च व्हीकल
(3) पोलर सैटेलाइट लॉन्च व्हीकल
(4) प्रोडक्शन सैटेलाइट लॉन्च व्हीकल

73. जब हम अपनी भुजा सीधी करते हैं तो निम्नलिखित में से क्या होता है ?

- (1) दोनों, द्विशिरस्क एवं त्रिशिरस्क पेशियाँ सिकुड़ती हैं।
(2) दोनों, द्विशिरस्क एवं त्रिशिरस्क पेशियाँ शिथिल होती हैं।
(3) द्विशिरस्क पेशी सिकुड़ती है और त्रिशिरस्क पेशी शिथिल होती है।
(4) त्रिशिरस्क पेशी सिकुड़ती है और द्विशिरस्क पेशी शिथिल होती है।

69. Which of the following biogeochemical cycles involve all of the processes mentioned below :

Condensation, Melting, Transpiration, Evaporation, Freezing

- (1) Nitrogen cycle (2) Carbon cycle
(3) Water cycle (4) Sulphur cycle

70. A freely suspended bar magnet will always rest in :

- (1) North-South direction
(2) East-West direction
(3) South-West direction
(4) North-East direction

71. SI unit of force is :

- (1) joule (2) newton
(3) pound (4) pascal

72. The full form of PSLV is :

- (1) Public Satellite Launch Vehicle
(2) People Satellite Launch Vehicle
(3) Polar Satellite Launch Vehicle
(4) Production Satellite Launch Vehicle

73. Which of the following occurs when we straighten our arm ?

- (1) Both biceps and triceps contract
(2) Both biceps and triceps relax
(3) Biceps contract and triceps relax
(4) Triceps contract and biceps relax



74. वे दो गैस जो सम्मिलित रूप से पृथ्वी के वायुमंडल का लगभग 99 प्रतिशत बनाती हैं, हैं
- (A) नाइट्रोजन
(B) कार्बन-डाइऑक्साइड
(C) ओजोन
(D) ऑक्सीजन
- (1) (A) एवं (B) (2) (A) एवं (C)
(3) (B) एवं (D) (4) (A) एवं (D)
75. भारत में अंतरिक्ष विज्ञान कार्यक्रमों के विकास के लिए जिम्मेदार एजेंसी है :
- (1) HAL (2) ISRO
(3) BARC (4) ICARI
76. फ्लेवर सेवर एक आनुवंशिक रूप से संशोधित
- (1) टमाटर है। (2) सेब है।
(3) कपास है। (4) चावल (धान) है।
77. भारत के सबसे बड़े सौर पार्कों में से एक जो राजस्थान में विकसित किया जा रहा है, स्थित है
- (1) ओसिया में (2) नोखा में
(3) पोकरण में (4) भादला में
78. एक नैनोमीटर बराबर होता है
- (1) 10^{-10} मीटर के (2) 10^{-9} मीटर के
(3) 10^{-8} मीटर के (4) 10^{-7} मीटर के
79. माइक्रोसॉफ्ट ऑफिस समूह का सर्वाधिक प्रयुक्त स्प्रेडशीट सॉफ्टवेयर है
- (1) MS वर्ड (2) MS एक्सेस
(3) MS पावरपाइन्ट (4) MS एक्सेल
80. किसी वेबसाइट का प्रथम पृष्ठ कहलाता है
- (1) डेस्क टॉप (2) होम पेज
(3) वेब पेज (4) ओपन पेज

74. The two gases which, taken together, make up about 99 percent of earth's atmosphere are :
- (A) Nitrogen
(B) Carbon dioxide
(C) Ozone
(D) Oxygen
- (1) (A) and (B) (2) (A) and (C)
(3) (B) and (D) (4) (A) and (D)
75. The Agency responsible for the development of space science programmes in India is
- (1) HAL (2) ISRO
(3) BARC (4) ICARI
76. Flavr Savr is a genetically modified
- (1) Tomato (2) Apple
(3) Cotton (4) Rice
77. One of India's biggest solar parks is being developed in Rajasthan at :
- (1) Osian (2) Nokha
(3) Pokhran (4) Bhadla
78. One nanometer is equal to
- (1) 10^{-10} metres (2) 10^{-9} metres
(3) 10^{-8} metres (4) 10^{-7} metres
79. The most widely used spreadsheet software of Microsoft Office suite is :
- (1) MS Word (2) MS Access
(3) MS PowerPoint (4) MS Excel
80. The first page of any website is called
- (1) Desktop (2) Home Page
(3) Web Page (4) Open Page

81. वर्मीकम्पोस्टिंग के लिए निम्नलिखित में से किसका उपयोग किया जाता है ?

- (1) लाल कृमि (2) चपटे कृमि
(3) राउन्ड वर्म (4) फ्रीता कृमि

82. Paytm से सम्बन्धित निम्नलिखित कथनों पर विचार कीजिए एवं नीचे दिए गए कूटों की सहायता से सही कथन/कथनों का चयन कीजिए :

- A. Paytm एक डिजिटल भुगतान का मंच है ।
B. Paytm का उपयोग सामग्री क्रय एवं सेवा प्राप्ति हेतु ऑनलाइन एवं ऑफ़लाइन किया जा सकता है ।
C. Paytm को अभी तक रिज़र्व बैंक ऑफ़ इण्डिया से मान्यता नहीं मिली है ।

कूट :

- (1) A, B एवं C (2) A एवं B
(3) A एवं C (4) केवल A

83. निम्न में से कौन सी संख्या सबसे बड़ी है ?

$$\frac{7}{8}, \frac{6}{7}, \frac{5}{6}, \frac{4}{5}$$

- (1) $\frac{4}{5}$ (2) $\frac{5}{6}$
(3) $\frac{6}{7}$ (4) $\frac{7}{8}$

84. दिये गये कथनों एवं निष्कर्षों से उचित विकल्प का चयन कीजिए :

कथन : कुछ आदमी गंजे हैं ।
सभी गंजे अमीर हैं ।

निष्कर्ष : I. कुछ आदमी अमीर हैं ।
II. कुछ अमीर गंजे हैं ।
III. सभी गंजे आदमी हैं ।
IV. सभी अमीर गंजे हैं ।

- (1) मात्र I एवं III (2) मात्र II एवं IV
(3) मात्र I एवं IV (4) मात्र I एवं II

81. Which of the following are used for vermicomposting ?

- (1) Red worm (2) Flat worm
(3) Round worm (4) Tape worm

82. Consider the following statements regarding Paytm and select the correct statements using the codes given below :

- A. Paytm is a digital payment platform.
B. Paytm can be used to buy goods and avail services online and offline.
C. Paytm is not yet approved by Reserve Bank of India.

Codes :

- (1) A, B and C (2) A and B
(3) A and C (4) Only A

83. Which of the following is a greatest number :

$$\frac{7}{8}, \frac{6}{7}, \frac{5}{6}, \frac{4}{5}$$

- (1) $\frac{4}{5}$ (2) $\frac{5}{6}$
(3) $\frac{6}{7}$ (4) $\frac{7}{8}$

84. From the given statements and conclusion choose the correct option :

Statements : Some men are bald headed.
All bald headed are rich.

Conclusion : I. Some men are rich.
II. Some rich are bald headed.
III. All bald headed are men.
IV. All rich are bald headed.

- (1) Only I and III (2) Only II and IV
(3) Only I and IV (4) Only I and II



85. कथन : 1. कोई भी खबर अच्छी खबर नहीं होती ।

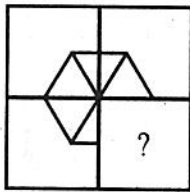
2. सभी अच्छी खबरें सरकार द्वारा जारी की जाती हैं ।

निष्कर्ष : I. कोई खबर सरकार द्वारा जारी नहीं की जाती है ।

II. सभी खबरें सरकार द्वारा जारी की जाती हैं ।

- (1) केवल निष्कर्ष I अनुसरण करता है ।
(2) केवल निष्कर्ष II अनुसरण करता है ।
(3) दोनों ही निष्कर्ष I तथा II अनुसरण करते हैं ।
(4) न तो निष्कर्ष I न ही II अनुसरण करता है ।

86. संलग्न चित्र को पूरा करने के लिए निम्न विकल्प चित्रों में से कौन उचित है ?



- (1) (2)
(3) (4)

87. रिक्त स्थान को भरें :

8, 24, 48, 80, 120, _____

- (1) 180 (2) 168
(3) 200 (4) 208

85. Statements : 1. No news is good news.

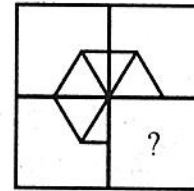
2. All good news are released by the government.

Conclusions : I. No news is released by the government.

II. All news are released by government.

- (1) Only conclusion I follows.
(2) Only conclusion II follows.
(3) Both conclusions I and II follow.
(4) Neither conclusion I nor II follows.

86. In the adjoining figure, which of the following fits best to complete it ?



- (1) (2)
(3) (4)

87. Fill the gap :

8, 24, 48, 80, 120, _____

- (1) 180 (2) 168
(3) 200 (4) 208



88. निम्नलिखित श्रेणी के रिक्त स्थानों को उचित विकल्प का चयन करते हुए भरिये :

__ bc __ ca __ aba __ c __ ca

- (1) a b c b b (2) b c b b a
(3) c b b a b (4) b b a b c

89. किसी भाषा में यदि 'MINJUR' का कूट 312547 और 'TATA' का कूट 6898 है तो 'MADURAI' का कूट क्या होगा ?

- (1) 3498178 (2) 3894871
(3) 3849781 (4) 3894781

90. विलुप्त संख्या ज्ञात कीजिये :

24	144	384
6	36	?
2	12	32
1	6	16

- (1) 80 (2) 85
(3) 91 (4) 96

91. 40 लीटर के एक मिश्रण में दूध और पानी का अनुपात 4 : 1 है। इस मिश्रण में कितना पानी मिलाया जाये कि दूध और पानी का अनुपात 2 : 3 हो जाये ?

- (1) 20 लीटर (2) 32 लीटर
(3) 40 लीटर (4) 30 लीटर

92. एक आदमी एक औरत से कहता है - "उसकी माता, मेरे नाना के इकलौते पुत्र की पुत्री है।" आदमी उस औरत से किस प्रकार सम्बन्धित है ?

- (1) भाई (2) पुत्र
(3) भतीजा (4) मामा

88. Choose the correct alternative to fill the gaps of following series :

__ bc __ ca __ aba __ c __ ca

- (1) a b c b b (2) b c b b a
(3) c b b a b (4) b b a b c

89. In a language 'MINJUR' is coded as 312547 and 'TATA' is coded as 6898. How can 'MADURAI' be coded ?

- (1) 3498178 (2) 3894871
(3) 3849781 (4) 3894781

90. Find the missing number :

24	144	384
6	36	?
2	12	32
1	6	16

- (1) 80 (2) 85
(3) 91 (4) 96

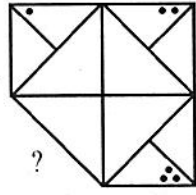
91. In a mixture of 40 liters, the ratio of milk and water is 4 : 1. How much water be added to the mixture so that the ratio of milk and water becomes 2 : 3 ?

- (1) 20 litres (2) 32 litres
(3) 40 litres (4) 30 litres

92. A man says to a woman - "Her mother is daughter of only son of my maternal grand-father". How man is related with woman ?

- (1) Brother (2) Son
(3) Nephew (4) Maternal Uncle

93. साथ वाले चित्र को उसके डिज़ाइन के अनुसार पूरा करने के लिए दिये गये चित्रों से उचित चित्र का चयन करें :

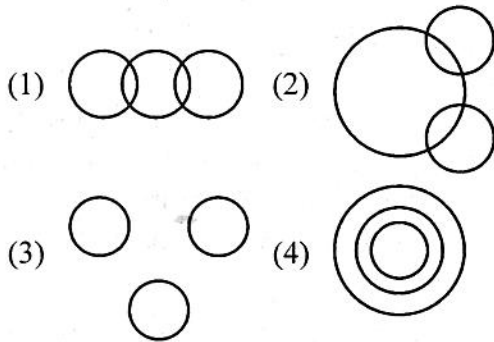


- (1) (2) (3) (4)

94. चार अंकों की सबसे बड़ी संख्या, जो 31 से पूर्णतया विभाजित होती है, बराबर है

- (1) 9981 (2) 9969
(3) 9982 (4) 9989

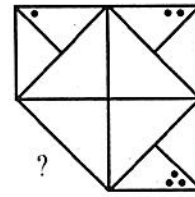
95. श्यामपट्ट, कक्षा और विद्यालय में सम्बन्ध इंगित करें :



96. एक शहर में अफसरों और सैनिकों के मध्य अनुपात 3 : 31 का था। 6 अफसर और 22 सैनिक एक युद्ध में मारे गये और अनुपात 1 : 13 का रह गया। प्रारम्भ में अफसरों की संख्या बराबर थी -

- (1) 21 (2) 17
(3) 217 (4) 271

93. Choose the correct figure to complete the adjoining figure as per its pattern :

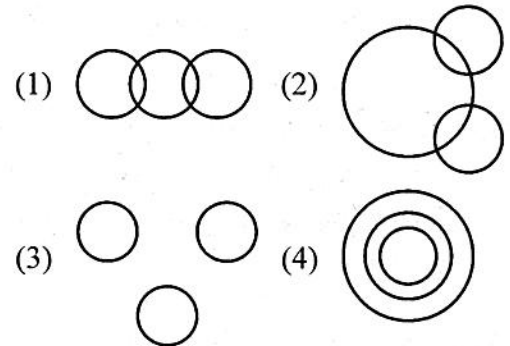


- (1) (2) (3) (4)

94. The greatest four digits number, which is completely divisible by 31, is equal to

- (1) 9981 (2) 9969
(3) 9982 (4) 9989

95. Indicate the relation among black board, classroom and school :



96. Ratio between officers and soldiers was 3 : 31 in a city. 6 officers and 22 soldiers were killed in a war and ratio became 1 : 13. Initially number of officers was equal to

- (1) 21 (2) 17
(3) 217 (4) 271



97. एक राशि को 3 वर्षों के लिये किसी निश्चित दर पर साधारण ब्याज पर दिया गया। यदि इसे 3% अधिक ब्याज दर पर दिया होता, तो ₹ 108 अधिक ब्याज मिलता। राशि बराबर है

- (1) ₹ 900 (2) ₹ 1,200
(3) ₹ 1,500 (4) ₹ 1,800

98. एक संख्या का 90% क्या होगा, जिसका 200%, 80 है

- (1) 36 (2) 144
(3) 72 (4) 108

99. किसी कूट भाषा में यदि
“GOLD” को “HOME”
“COME” को “DONE”
एवं “CORD” को “DOSE”
द्वारा कूटित किया जाये तो, “SONS” का कूट
क्या होगा ?

- (1) TPOT (2) TOOS
(3) TOOT (4) SOOT

100. कुछ धन 2 वर्ष में चक्रवृद्धि ब्याज की दर से ₹ 208 ब्याज देता है एवं वही धन 2 वर्ष में साधारण ब्याज ₹ 200 देता है, तो मूलधन क्या है ?

- (1) ₹ 2500 (2) ₹ 1250
(3) ₹ 2550 (4) ₹ 1200

97. An amount was put at simple interest at a certain rate for 3 years. If it had been put at 3% higher rate, it would have fetched ₹ 108 more. The amount is equal to

- (1) ₹ 900 (2) ₹ 1,200
(3) ₹ 1,500 (4) ₹ 1,800

98. What is 90% of a number whose 200% is 80 ?

- (1) 36 (2) 144
(3) 72 (4) 108

99. If “GOLD” is coded as “HOME”
“COME” is coded as “DONE”
and “CORD” is coded as “DOSE”,
then how “SONS” will be coded ?

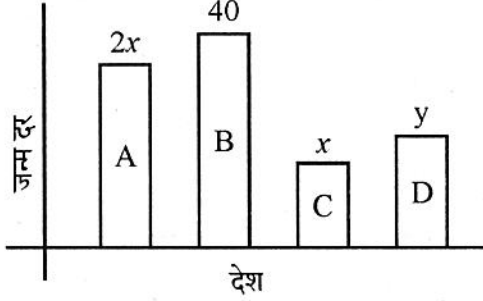
- (1) TPOT (2) TOOS
(3) TOOT (4) SOOT

100. On a certain sum of money the compound interest for 2 years is ₹ 208 and simple interest is ₹ 200, Find the sum.

- (1) ₹ 2,500 (2) ₹ 1,250
(3) ₹ 2,550 (4) ₹ 1,200

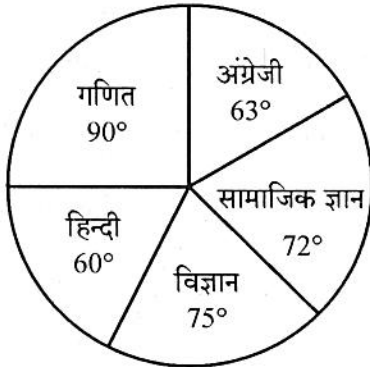


101. दिया गया बार-चित्र चार विभिन्न देशों A, B, C और D की जनसंख्या की जन्म दर प्रति हजार दर्शाता है। यदि देश B की जन्म दर, देश D की जन्म दर से दुगुनी हो तो तथा $x + y = 38$, तो A की जन्म दर है



- (1) 18 (2) 20
(3) 36 (4) 40

102. निम्न पाई-चार्ट एक विद्यार्थी द्वारा एक परीक्षा में प्राप्त हुये अंकों को दर्शाता है, उसने कुल 540 अंक प्राप्त किये। तो उस विषय को ज्ञात कीजिये जिसमें वह 108 अंक प्राप्त करता है।

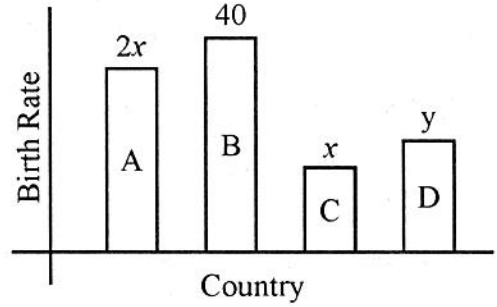


- (1) विज्ञान (2) हिन्दी
(3) अंग्रेजी (4) सामाजिक ज्ञान

103. वर्ष 2019 में, निम्नलिखित में से किसे पद्म विभूषण मिला ?

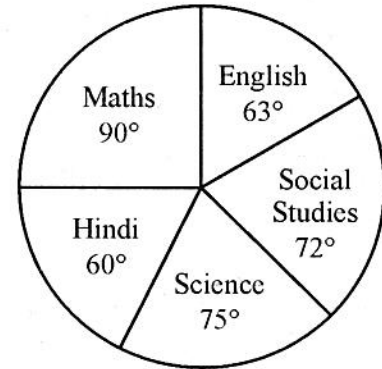
- (1) तीजन बाई (2) प्रभुदेवा
(3) कुलदीप नायर (4) भूपेन हज़ारिका

101. The following bar diagram shows the birth rate per thousand of the population of four different countries A, B, C and D. If birth rate of country B is twice to that of D and $x + y = 38$, then, birth rate of A is



- (1) 18 (2) 20
(3) 36 (4) 40

102. The following Pie-chart shows the marks obtained by a student in an examination, who scored 540 marks in all. Find the subject in which student got 108 marks.



- (1) Science (2) Hindi
(3) English (4) Social Studies

103. In the year 2019, who among the following received Padma Vibhushan ?

- (1) Teejan Bai
(2) Prabhu Deva
(3) Kuldeep Nayar
(4) Bhupen Hazarika



104. लोक सभा चुनाव 2019 का सबसे ऊँचा मतदान केन्द्र जिस राज्य में स्थित है -

- (1) सिक्किम (2) अरुणाचल प्रदेश
(3) नागालैण्ड (4) हिमाचल

105. राजस्थान सेकेंडरी शिक्षा बोर्ड की कक्षा 12 की बोर्ड परीक्षाएँ, 2019 जिस दिन समाप्त हुई

- (1) 28 मार्च, 2019
(2) 30 मार्च, 2019
(3) 2 अप्रैल, 2019
(4) 5 अप्रैल, 2019

106. हाल ही में यह निर्णय लिया गया कि उड़ान के दौरान एयर इंडिया कर्मीदल प्रत्येक घोषणा के बाद अब कहेंगे -

- (1) जय हिंद (2) वंदे मातरम्
(3) नमस्कार (4) शुभकामनाएँ

107. निम्नलिखित में से किस जोड़े ने दिल्ली के डॉ. करणीसिंह शूटिंग रेंज पर सम्पन्न हुई आई.एस.एस.एफ. वर्ल्ड कप में 10 मीटर एयर पिस्टल मिक्सड इवेंट में स्वर्ण पदक जीते ?

- (1) हीना सिद्धु और अभिषेक वर्मा
(2) अपूर्वी चन्देला और दीपक कुमार
(3) मनु भाकर और सौरभ चौधरी
(4) सीमा शर्मा और रवि कुमार

104. The highest polling station of Lok Sabha Election 2019 is in the state

- (1) Sikkim
(2) Arunachal Pradesh
(3) Nagaland
(4) Himachal Pradesh

105. Class-12 board examination, 2019 of Rajasthan Board of Secondary Education ended on :

- (1) 28th March, 2019
(2) 30th March, 2019
(3) 2nd April, 2019
(4) 5th April, 2019

106. Recently a decision has been taken that Air India Crew after every inflight announcement will now say :

- (1) Jai Hind
(2) Vande Mataram
(3) Namaskar
(4) Shubhkamnayen

107. Which of the following pairs won gold medals in the 10 m air pistol mixed event at the ISSF World Cup at Dr. Karni Singh shooting range, Delhi ?

- (1) Heena Sidhu and Abhishek Verma
(2) Apurvi Chandela and Deepak Kumar
(3) Manu Bhakar and Saurabh Chaudhary
(4) Seema Sharma and Ravi Kumar

108. एयर लाइन जिसने 1 अप्रैल, 2019 से किशनगढ़ और अहमदाबाद के बीच अपनी हवाई सेवा शुरू की
- (1) एयर इंडिया (2) इंडिगो
(3) गो एयर (4) स्पाइस जेट
109. 2019 की ऑस्कर पुरस्कार प्राप्त लघु डाक्युमेंटरी फिल्म "पीरियड : एण्ड ऑफ सेन्टेंस" को निम्नलिखित में से किस जिले में फिल्माया गया था ?
- (1) चूरू (2) धौलपुर
(3) हिसार (4) हापुड़
110. किसे भारतीय सिनेमा में अपने 50 वर्षों के उत्कृष्ट योगदान के लिए पुरस्कार 2019 प्राप्त हुआ ?
- (1) हेमा मालिनी (2) मनोज कुमार
(3) शत्रुघ्न सिन्हा (4) वहीदा रेहमान
111. राजस्थान के एक गाँव में एक दूसरे पर पत्थर मारकर होली मनाई जाती है। यह गाँव जिस जिले में स्थित है -
- (1) जोधपुर (2) डूंगरपुर
(3) पाली (4) अलवर
112. कौन सा क्रिकेट खिलाड़ी हाल ही में भारतीय जनता पार्टी में शामिल हुआ है ?
- (1) एम.एस. धोनी (2) रोहित शर्मा
(3) विराट कोहली (4) गौतम गम्भीर
108. The airlines which started its service between Kishangarh and Ahmedabad on 1st April, 2019 is :
- (1) Air India (2) Indigo
(3) Go Air (4) Spice Jet
109. In which of the following districts the 2019 Oscar winning short documentary film "Period : End of Sentence" was filmed ?
- (1) Churu (2) Dholpur
(3) Hisar (4) Hapur
110. Who received the Filmfare Award, 2019, for his/her 50 years of outstanding contribution to Indian cinema ?
- (1) Hema Malini
(2) Manoj Kumar
(3) Shatrughan Sinha
(4) Waheeda Rehman
111. In a village of Rajasthan, people celebrate Holi by hurling stones at each other. This village lies in the district
- (1) Jodhpur (2) Dungarpur
(3) Pali (4) Alwar
112. Which of the cricketers recently joined Bhartiya Janta Party ?
- (1) M.S. Dhoni
(2) Rohit Sharma
(3) Virat Kohli
(4) Gautam Gambhir



113. राजस्थान के गुहिल राजवंश की कितनी शाखाएँ थीं ?
- (1) 15 (2) 24
(3) 10 (4) 32
114. जालौर के चौहान शासकों में से कौन से राजा को दिल्ली के किसी सुल्तान के आक्रमण का सामना नहीं करना पड़ा ?
- (1) उदयसिंह (2) कान्हड़देव
(3) वीरमदेव (4) चाचिग देव
115. निम्न में से कौन सी संगीत की साहित्यिक रचना महाराणा कुम्भा द्वारा रचित नहीं है ?
- (1) सुधा प्रबन्ध
(2) संगीत मीमांसा
(3) संगीत राज
(4) कला निधि
116. सर्वहितकारिणी सभा, चुरू की स्थापना किसने की ?
- (1) स्वामी गोपालदास
(2) साधु सीतारामदास
(3) हरविलास शारदा
(4) रामनारायण चौधरी
117. राजस्थान के गठन की प्रक्रिया में कितना समय लगा ?
- (1) आठ वर्ष (2) बारह वर्ष
(3) दस वर्ष (4) छः वर्ष
118. देलवाड़ा में स्थित तीर्थंकर नेमिनाथ के मंदिर का निर्माण 1230 ई. में करवाया था
- (1) भीमदेव ने (2) विमलशाह ने
(3) तेजपाल ने (4) शोभनदेव ने
119. गढ़बीठली स्थित है
- (1) अजमेर (2) आमेर
(3) गजनेर (4) मंडोर
113. How many branches were there in Guhil dynasty of Rajasthan ?
- (1) 15 (2) 24
(3) 10 (4) 32
114. Which of the following Chauhan Kings of Jalore did not face the attack of any Sultan of Delhi ?
- (1) Udai Singh (2) Kanhrdeo
(3) Viramdeo (4) Chachigdeo
115. Which of the following is not the literary composition of music of Rana Kumbha ?
- (1) Sudha Prabandh
(2) Sangeet Meemansa
(3) Sangeet Raj
(4) Kala Nidhi
116. Who established Sarvahitkarini Sabha, Churu ?
- (1) Swami Gopaldas
(2) Sadhu Sitaramdas
(3) Harvilas Sharda
(4) Ram Narayan Chaudhary
117. How much time was spent during the integration of Rajasthan ?
- (1) Eight years (2) Twelve years
(3) Ten years (4) Six years
118. The temple of Tirthankar Neminath at Delwara was built in 1230 A.D. by
- (1) Bhimdeo (2) Vimal Shah
(3) Tejpal (4) Shobhandeo
119. Garhbithli is situated at
- (1) Ajmer (2) Aamer
(3) Gajner (4) Mandore

120. मेवाड़ शैली की चित्रकला का स्वर्णयुग निम्न में से कौन सा है ?

- (1) 1628 - 1651 ईस्वी, महाराणा जगतसिंह के शासनकाल में
- (2) 1652 - 1680 ईस्वी, महाराणा राजसिंह के शासनकाल में
- (3) 1680 - 1698 ईस्वी, महाराणा जयसिंह के शासनकाल में
- (4) 1698 - 1710 ईस्वी, अमरसिंह द्वितीय के शासनकाल में

121. राजविलास की रचना की

- (1) मान ने
- (2) करणीदान ने
- (3) भट्ट सदाशिव ने
- (4) मण्डन ने

122. बड़ली प्रस्तर अभिलेख प्राप्त हुआ था

- (1) अम्बा माता मन्दिर में
- (2) भिलोट माता मन्दिर में
- (3) शिव मन्दिर में
- (4) सावित्री मन्दिर में

123. गोगाजी के गोगामेड़ी (नोहर) में लगने वाले मेले की भारतीय तिथिक्रम के अनुसार महीना और तिथि है

- (1) भाद्रपद शुक्ल नवमी
- (2) भाद्रपद कृष्ण नवमी
- (3) चैत्र शुक्ल नवमी
- (4) चैत्र कृष्ण नवमी

124. जसनाथी संप्रदाय के नियमों की संख्या है

- (1) 29
- (2) 36
- (3) 23
- (4) 19

120. Which of the following is called the golden-age of Mewar-Style of paintings ?

- (1) 1628 - 1651 A.D. in the reign of Maharana Jagat Singh.
- (2) 1652 - 1680 A.D. in the reign of Maharana Raj Singh.
- (3) 1680 - 1698 A.D. in the reign of Maharana Jai Singh.
- (4) 1698 - 1710 A.D. in the reign of Amar Singh Second.

121. Raj Vilas was written by

- (1) Maan
- (2) Karnidan
- (3) Bhatt Sadashiv
- (4) Mandan

122. Barli stone inscription was found in

- (1) Temple of Amba Mata
- (2) Temple of Bhillot Mata
- (3) Temple of Shiva
- (4) Temple of Savitri

123. The fair of Gogaji held in Goga Meri (Nohar) falls in the month and date according to Indian Calender is

- (1) Bhadrapad Shukla Navmi
- (2) Bhadrapad Krishna Navmi
- (3) Chetra Shukla Navmi
- (4) Chetra Krishna Navmi

124. How many rules are there in Jasnathi Cult ?

- (1) 29
- (2) 36
- (3) 23
- (4) 19



125. 'नेजा' से आशय है
- (1) तेजाजी का मंदिर
 - (2) पाबूजी का मेला
 - (3) लोक देवताओं के अनुयायियों द्वारा सर्प-दंश का इलाज
 - (4) रामदेवजी की ध्वजा
126. मध्यकालीन राजस्थान में सर्वाधिक सूर्य मंदिर और सूर्य मूर्तियाँ प्राप्त होने वाला परगना है
- (1) बाँसवाड़ा
 - (2) डूंगरपुर
 - (3) धवलपुरी
 - (4) सिरोही
127. मुर्कियाँ से आशय है
- (1) कानों का आभूषण
 - (2) हाथों का आभूषण
 - (3) पाँवों का आभूषण
 - (4) कमर का आभूषण
128. राजस्थान में 'भूमिज शैली' का प्राचीनतम मन्दिर है
- (1) पुष्कर का ब्रह्मा मन्दिर
 - (2) सेवाड़ी का जैन मन्दिर
 - (3) भानगढ़ का शिव मन्दिर
 - (4) लोदरवा का जैन मन्दिर
129. पर्यटन स्थल अचलगढ़ स्थित है
- (1) सिरोही में
 - (2) उदयपुर में
 - (3) राजसमन्द में
 - (4) चित्तौड़गढ़ में
130. गरासिया जनजाति का मुख्य नृत्य है
- (1) कच्छीघोड़ी
 - (2) गवरी
 - (3) वालर
 - (4) राई

125. The meaning of 'Neja' is
- (1) Temple of Tejaji
 - (2) Fair of Pabuji
 - (3) Remedy of Snake-bite by the followers of folk-deities
 - (4) Flag of Ramdeoiji
126. The paragana in which maximum numbers of sun temples and statues are found in medieval Rajasthan is
- (1) Banswara
 - (2) Dungarpur
 - (3) Dhawalpuri
 - (4) Sirohi
127. The meaning of Murkiyan is
- (1) Ornament of ears
 - (2) Ornament of hands
 - (3) Ornament of feet
 - (4) Ornament of waist
128. The oldest temple of 'terraneous style' in Rajasthan is
- (1) Brahma temple of Pushkar
 - (2) Jain temple of Sewari
 - (3) Shiv temple of Bhangarh
 - (4) Jain temple of Lodrava
129. Tourist place Achalgarh is situated at
- (1) Sirohi
 - (2) Udaipur
 - (3) Rajsamand
 - (4) Chittorgarh
130. The main dance of Garasia tribe is
- (1) Kachhighodi
 - (2) Gavri
 - (3) Valar
 - (4) Rai

131. इनमें से किस विकल्प के सभी विशेषण संज्ञा से बने हैं ?

- (1) ज़हरीला, कड़वा
- (2) खानदानी, सफेद
- (3) श्रद्धालु, रंगीला
- (4) पुराना, भगोड़ा

132. किस विकल्प में शब्द-युग्म का अर्थ-भेद सही है ?

- (1) कथा-कंथा = कहानी - पान मसाला
- (2) कच-कुच = बाल - सेना
- (3) चीर-चिर = तोड़ना - वस्त्र
- (4) अघ-अग = पाप-पर्वत

133. किस विकल्प में परस्पर पर्यायवाची शब्द नहीं हैं ?

- (1) अमृत, पीयूष
- (2) चंद्रमा, विधु
- (3) हंस, अहि
- (4) जल, वारि

134. कौन सा वाक्य शुद्ध है ?

- (1) गधे रातभर भौंकते रहे ।
- (2) हिंदी के अधिकतर लेखक निर्धन हैं ।
- (3) शायद आज वर्षा अवश्य होगी ।
- (4) लड़का अपने धुन में जा रहा है ।

135. 'Licence' का समानार्थक हिंदी शब्द है

- (1) अनुज्ञप्ति
- (2) प्रपत्र
- (3) आदेश
- (4) अध्यादेश

136. किस शब्द का संधि-विच्छेद सही नहीं है ?

- (1) शरासन = शर + असन
- (2) विवादास्पद = विवाद + आस्पद
- (3) षडानन = षट् + आनन
- (4) लोकैषणा = लोक + ऐषणा

137. किस शब्द में उपसर्ग का प्रयोग नहीं हुआ है ?

- (1) आजन्म
- (2) आधुनिक
- (3) आलोचना
- (4) आवेदन

138. निम्नलिखित शब्दों में से किस शब्द का सही समास-विग्रह है ?

- (1) त्रिपुर - तीन भुवन का समाहार
- (2) प्राणप्रिय - प्राण और प्रिय
- (3) यज्ञशाला - यज्ञ की शाला
- (4) वीणापाणि - वीणा है पाणि में जिसके

139. निम्नलिखित में से किस शब्द में प्रत्यय का प्रयोग नहीं हुआ है ?

- (1) कलमदान
- (2) रक्तदान
- (3) पीकदान
- (4) धूपदान

140. इनमें से किस वाक्य में द्विकर्मक क्रिया है ?

- (1) राम और श्याम ने केले और आम खाये ।
- (2) राम ने श्याम और हरीश को पीटा ।
- (3) हरीश ने मोहन को खाना खिलाया ।
- (4) हरीश और राम ने लड़कों को खूब हँसाया ।



141. Translate the following into English :

मुझे कल चिट्ठी लिखनी है ।

- (1) I have to write a letter tomorrow.
- (2) Tomorrow I will write letters.
- (3) I shall be write a letter tomorrow.
- (4) Letter is to be written tomorrow.

142. _____ is a formal written offer or bid to carry out a work or supply goods at a stated price, time and caution money.

- (1) Demi Official letter
- (2) Circular
- (3) Notice
- (4) Tender

143. I want to convert _____ ancient castle into _____ awesome hotel.

Identify the correct pair of options to fill in the blanks.

- (1) this, an
- (2) these, a
- (3) too much, too many
- (4) all, those

144. Identify the synonym of the word 'generous'.

- (1) malignancy
- (2) magnanimous
- (3) magadiite
- (4) magnificent

145. Read the lines given below and answer the questions :

"June 5th is celebrated as World Environment Day to spread public awareness all over the World towards environment safety and cleanliness."

June 5th is celebrated as. Environment Day not to :

- (1) help environment
- (2) create awareness
- (3) maintain the originality of our environment.
- (4) spoil the safety and cleanliness of our environment.

146. Fill in the correct tense form from the options given.

_____ you _____ anything tomorrow ?

- (1) Be, do
- (2) Is, done
- (3) Were, doing
- (4) Are, doing

147. Choose the grammatically correct sentence from the options given.

- (1) No sooner we reached the examination hall the bell rang.
- (2) No sooner did we reach the examination hall the bell rang.
- (3) No sooner did we reach the examination hall than the bell rang.
- (4) No sooner did we reach the examination hall then the bell rang.

148. Who painted it ?

Change the voice :

- (1) Who was it painted by ?
- (2) Whom did it paint ?
- (3) Who did painted it ?
- (4) By whom did it paint ?

149. Change the narration :

Marry asked if she could stay with us.

- (1) Mary asked should she stay with you.
- (2) Mary said, "Can I stay with you ?"
- (3) "Should you stay with me ?" said Mary.
- (4) "Would you stay with Mary ?"

150. I'm not very clever _____ cooking.

Fill in the blank with the appropriate option.

- (1) on
- (2) at
- (3) by
- (4) in



रफ कार्य के लिए स्थान / SPACE FOR ROUGH WORK

$$\begin{array}{r} 32 \\ 18 \\ \hline 4 \end{array}$$

$$\begin{array}{r} 52 \\ 33 \\ \hline 19 \end{array}$$

$$\begin{array}{r} 67 \\ 53 \\ \hline 14 \end{array}$$

